

# SJクイズ

子ども編

[問題編]

Q

1 おうだん ほ どう わた ほ こうしゃよう しんごう み  
横断歩道を渡ろうと歩行者用の信号を見たら、  
あお  
青がチカチカしていました。この時、どうする  
のが正しいでしょう？

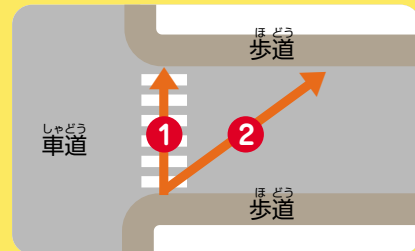
- ① 歩いて渡る
- ② クルマに注意して渡る
- ③ 止まって次の青まで待つ



Q

2 どうろ わた とき わた ぼ あい  
道路を渡る時、まっすぐに渡る場合と、ななめに渡る場合では、  
どちらが道路の反対側に早く着くことができるでしょう？（ど  
ちらの場合も歩く速さは同じとします）

- ① まっすぐに渡る
- ② ななめに渡る



Q

3 つぎ なか  
次のイラストの中で、やってはいけないことをしているのはどれで  
しょう？（いくつでも可）



①



②



③

【使用上の注意】

●営利目的での利用はおやめください ●内容の無断転載、無断改変、一部抜粋しての利用はおやめください ●その他、使用に関するご質問はお問い合わせください  
本田技研工業(株) 安全運転普及本部 TEL:03(5412)1736



## Q1

かいとう  
解答

③

### かいせつ <解説>

ほごうしやよう あおしんごう きえ  
歩行者用の青信号がつかたり、消えたりチカチカしだしたら、  
わた はし  
「渡り始めてはいけない」という合図です。次に青信号まで待ち  
ましょう。

もし、わた ちゆう ちゆう ちゆう はし はし  
もし、渡っている途中でチカチカし始めたら、あわてて走っ  
たりせずはやあつ わた お  
たりせず早歩きで渡り終えましょう。



## Q2

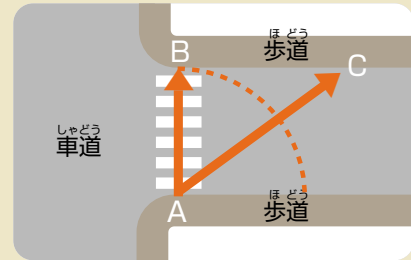
かいとう  
解答

①

### かいせつ <解説>

ちてん ちてん びよう  
A地点からB地点まで10秒かかるとしたら、A  
ちてん ちてん びよういじよう  
地点からC地点は10秒以上かかります。

ななめにわた わた とくき どうろ  
ななめに渡ると、まっすぐ渡る時よりも、道路の  
はんたいがわ つ じかん おお  
反対側に着くまでの時間はより多くかかるため、そ  
のぶん しゃどう なが きけん  
の分だけ車道に長くいることになり、危険なのです。



## Q3

かいとう  
解答

①

②


### かいせつ <解説>

①：へいしん だい なら はし  
並進している（2台で並んで走っている）ので×  
じてんしゃ の とくき ひだりがわ いちれつ はし  
自転車に乗る時は左側を一列で走りましょう。

②：ふたりの  
二人乗りをしているので×  
ふたりの  
二人乗りはバランスがとりにくく、ふらついてあぶ  
やめましょう。

③：ほごうしや みち ゆず  
歩行者に道を譲っているので○  
じてんしゃ ほどう はし とくき ほごうしや ちゆうい ほどう  
自転車で歩道を走る時は歩行者に注意しましょう。歩道で  
ほごうしや ゆうせん  
は歩行者が優先です。

※じてんしゃ の とくき かなら ちやくよう  
※自転車に乗る時は必ずヘルメットを着用しましょう。



#### 【使用上の注意】

●営利目的での利用はおやめください ●内容の無断転載、無断改変、一部抜粋しての利用はおやめください ●その他、使用に関するご質問はお問い合わせください  
本田技研工業(株) 安全運転普及本部 TEL: 03 (5412) 1736